

ΤΑΞΗ: Α΄ ΓΕΝΙΚΟΥ ΛΥΚΕΙΟΥ

ΜΑΘΗΜΑ: ΓΕΩΜΕΤΡΙΑ

Ημερομηνία: Κυριακή 13 Απριλίου 2014

Διάρκεια Εξέτασης: 2 ώρες

ΑΠΑΝΤΗΣΕΙΣ

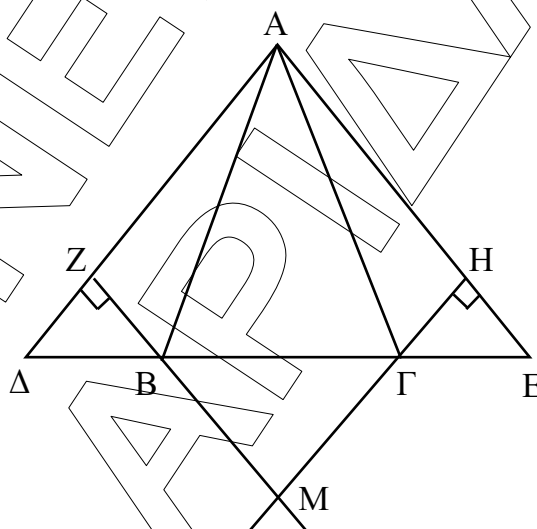
ΘΕΜΑ Α

A1. Παρ. 3.5 σελ. 62, Θεώρημα II

A2. α) Σωστό, β) Σωστό, γ) Λάθος.

A3. α. i, β. ii

ΘΕΜΑ Β

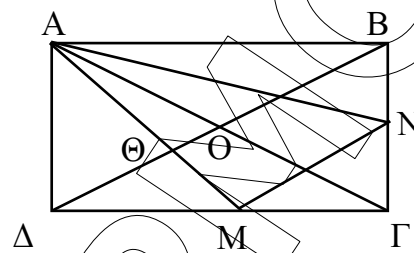


B1. Αφού $\Delta B = \Gamma E$, $AB = A\Gamma$, $\hat{A}B\Delta = \hat{A}\Gamma E$, (σαν παραπληρωματικές των προσκείμενων στη βάση του ισοσκελούς τριγώνου $AB\Gamma$, ίσων γωνιών B και Γ) θα είναι $\hat{A}B\Delta = \hat{A}\Gamma E$ οπότε $A\Delta = AE$, δηλαδή $\hat{A}\Delta E$ ισοσκελές.

B2. Έχουμε $\Delta B = \Gamma E$, $\hat{Z} = \hat{H} = 90^\circ$ και $\hat{\Delta} = \hat{E}$ (προσκείμενες στη βάση του ισοσκελούς τριγώνου $A\Delta E$). Άρα $\hat{\Delta}BZ = \hat{\Gamma}EH$ οπότε $BZ = \Gamma H$.

- B3.** Έχουμε $\hat{MBΓ} = \hat{MΓB}$, σαν κατακορυφήν των ίσων γωνιών ΔBZ και $EΓH$ των ίσων τριγώνων του προηγούμενου ερωτήματος, οπότε το τρίγωνο $BΓM$ είναι ισοσκελές.

ΘΕΜΑ Γ



- Γ1.** Είναι $ΑΓ = 2ΑΔ$ και $\hat{ΑΓΔ}$ ορθογώνιο στο Δ , οπότε $\hat{ΑΓΔ} = 30^\circ$ και $\hat{ΔΑΓ} = 90^\circ - \hat{ΑΓΔ} = 60^\circ$.

Είναι $ΑΟ = \frac{1}{2} ΑΓ = ΑΔ$. Αφού διχοτομούνται και είναι ίσες οι διαγώνιες του ορθογώνιου θα έχουμε $ΔΟ = \frac{1}{2} \cdot ΔB = \frac{1}{2} \cdot ΑΓ = ΑΔ$.

Άρα το τρίγωνο $ΑΟΔ$ είναι ισόπλευρο, δηλαδή οι γωνίες του είναι 60° η κάθε μία.

- Γ2.** Είναι $ΔΟ$ διάμεσος του $\hat{ΑΔΓ}$ και $ΑΜ$ διάμεσος του $\hat{ΑΔΓ}$, οπότε Θ βαρύκεντρο του $ΑΒΓ$.

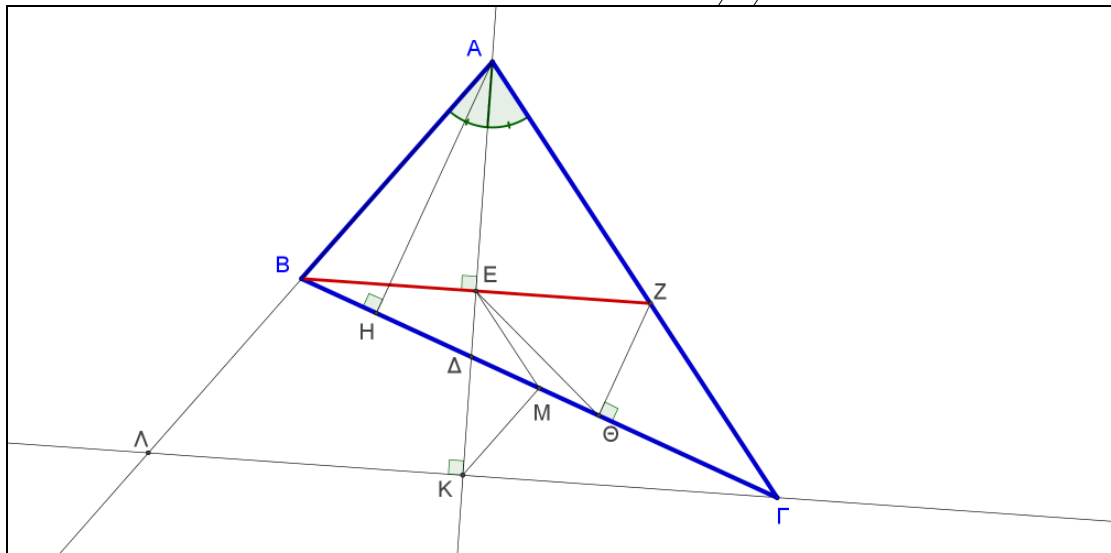
Άρα $ΔΘ = 2 \cdot ΘΟ = 2\alpha$.

και $ΔΟ = 3ΘΟ = 3\alpha$ οπότε $BΔ = 2ΔΟ = 6\alpha = ΑΓ$ (διότι οι διαγώνιες ορθογώνιου είναι ίσες).

Όμως $ΑΔ = \frac{1}{2} ΑΓ = \frac{1}{2} 6\alpha = 3\alpha$.

- Γ3.** Αφού M μέσο $\Delta Γ$ και N μέσο ΓB θα είναι $MN \parallel B\Delta$ δηλαδή $BNMA$ τραπέζιο με διάμεσο $\delta = \frac{B\Delta + MN}{2} = \frac{6\alpha + 3\alpha}{2} = \frac{9\alpha}{2}$ αφού το τμήμα MN είναι το μισό της $B\Delta$.

ΘΕΜΑ Δ



- Δ1.** Αφού AE είναι διχοτόμος και ύψος στο $\triangle ABZ$ θα είναι $\triangle ABZ$ ισοσκελές και AE διάμεσος, δηλαδή E μέσο του BZ και $BE = EZ$. Στο ορθογώνιο τρίγωνο $\triangle Z\Theta B$ η ΘE είναι διάμεσος στην υποτείνουσα BZ , άρα $E\Theta = \frac{BZ}{2} = BE$, οπότε το τρίγωνο BEO είναι ισοσκελές.
- Δ2.** Το τετράπλευρο $ABHE$ είναι εγγράμιμο αφού η πλευρά AB φαίνεται από τις κορυφές H και E με ίσες γωνίες $\hat{BHA} = \hat{BEA} = 90^\circ$.
- Δ3.** Τα τρίγωνα $\triangle ABZ$ και $\triangle \Lambda\Gamma$ είναι ισοσκελή αφού η διχοτόμος της γωνίας A ταυτίζεται με τα αντίστοιχα ύψη τους. Άρα $AB = AZ$ και $AL = A\Gamma$ οπότε αφαιρώντας τις ισότητες κατά μέλη προκύπτει $BL = Z\Gamma$.
- Δ4.** Τα E και M είναι μέσα των πλευρών BZ και $B\Gamma$ του τριγώνου $BZ\Gamma$ οπότε $EM \parallel \frac{Z\Gamma}{2}$ και τα M και K είναι μέσα των πλευρών $B\Gamma$ και $\Lambda\Gamma$ του τριγώνου $\Gamma B\Lambda$ οπότε $MK \parallel \frac{B\Lambda}{2}$. Αφού $BL = Z\Gamma$ θα είναι και $EM = MK$, δηλαδή το τρίγωνο EMK είναι ισοσκελές και από τις προηγούμενες παραλληλίες έχουμε $\hat{EM\Delta} = \hat{\Gamma}$ (εντός – εκτός και επί τα αυτά μέρη) και $\hat{BMK} = \hat{B}$ (εντός εναλλάξ), οπότε $\hat{EMK} = \hat{\Gamma} + \hat{B} = 180^\circ - \hat{A}$.